

## На какие цифры похожи предметы?




## Магический квадрат

Магическими квадратами называют таблицы, в которых сумма чисел в строках и столбцах одинаковая. Впиши недостающие числа в магическом квадрате.





Что художник нарисовал неправильно?





## Простой математический лабиринт

Маме не терпится попробовать торт, который испекли ей дети. Чтобы им встретиться, надо последовательно пройти по всем цифрам.

87	88	89	90	97	98	99			
86	85	84	91	96	95	100			
79	80	83	92	93	94				
78	81	82	71	70	69	62	61	58	57
77	76	75	72	67	68	63	60	59	56
10	11	74	73	66	65	64	53	54	55
9	12	13	14	15	16	51	52	47	46
8	5	4	3	18	17	50	49	48	45
7	6		2	19	28	29	30	31	44
			1	20	27	36	35	32	43
			22	21	26	37	34	33	42
			23	24	25	38	39	40	41

## На кого готовится напасть Шерхан.

Отгадай, на кого готовится напасть Шерхан. Для этого найди слово, спрятанное в картинке: вычеркни все буквы, которые появляются дважды, а из оставшихся составь слово.



Найди 15 прямоугольников



## Найди 10 отличий

